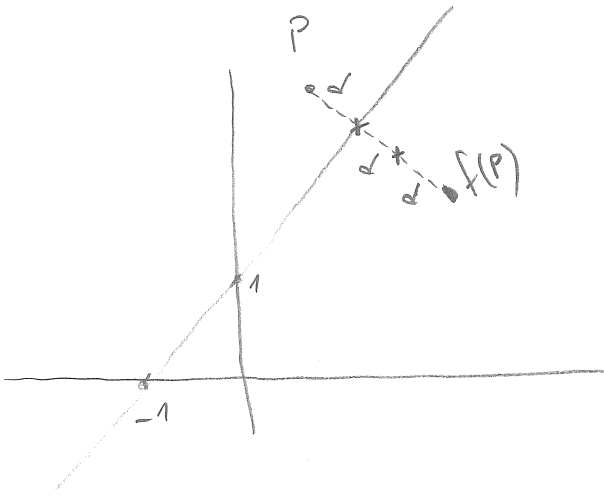


19/04/2018

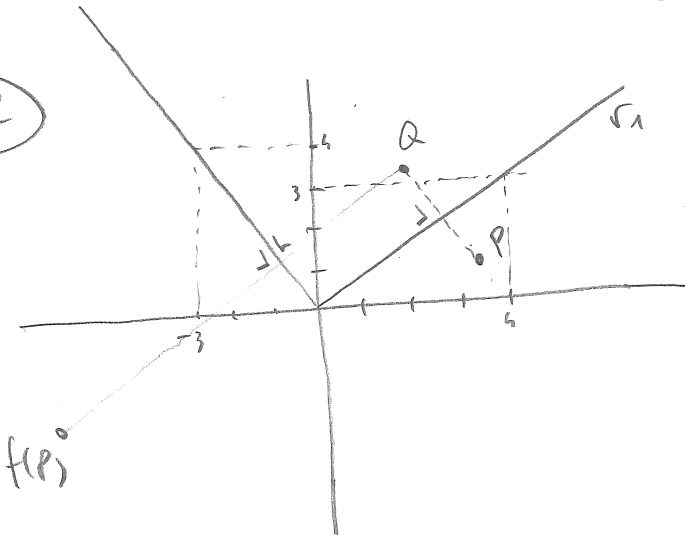
1

Equacions de la transformació de la figura.



$f(P)$  "simètric" al doble de distància.

2



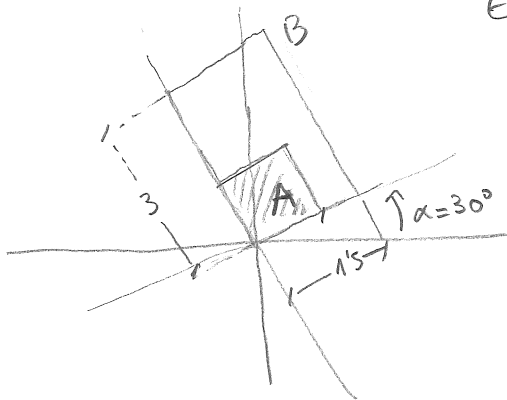
Equacions de la transformació:

$P \rightarrow Q \rightarrow f(P)$

$Q$ : simètric de  $P$  respecte  $r_1$

$f(P)$ : "simètric" al doble de distància de  $Q$

3



Equacions de l'infinetat que transforma el quadrat A en el rectangle B